

МУНИЦИПАЛЬНЫЙ ТУР

8 класс

Максимальная оценка – 100 баллов

Время на подготовку – 2 часа

I тур — 1 час 30 минут — (максимальная оценка — 80)

1. Согласны ли Вы с приведенными ниже суждениями? Если согласны, напишите «Да», если не согласны — «Нет». Внесите свои ответы в таблицу. (По 2 балла за правильный ответ, максимальный балл — 12.)

1. Окончательно крестьяне были закрепощены Соборным уложением 1649 года.
2. Россия присоединила Украину в середине XVII века.
3. Степан Разин был богатым запорожским казаком.
4. После восстания Емельяна Пугачева реку Яик переименовали в Урал.
5. «Хожение за три моря» было написано тверским купцом Афанасием Никитиным.
6. Жалованная грамота дворянству запрещала телесные наказания дворян.

1	2	3	4	5	6

2. Соотнесите даты и события. Для этого соедините в ответе соответствующие цифры и букву. Ответ оформите в виде таблицы. (По 1 балла за правильный ответ, максимальный балл — 4.)

	Дата		Событие
1.	945 г.	А.	Крещение Руси.
2.	988 г.	Б.	Убийство Игоря древлянами.
3.	1037 г.	В.	Утверждение митрополии в Киеве.
4.	1097 г.	Г.	Смерть Ярослава Мудрого.
5.		Д.	Съезд князей в Любече.

1	2	3	4	5

3. По какому принципу образованы ряды? Дайте краткий конкретный ответ. Вычеркните лишний элемент в каждом ряду. (По 2 балла за ряд, максимальный балл – 8.)

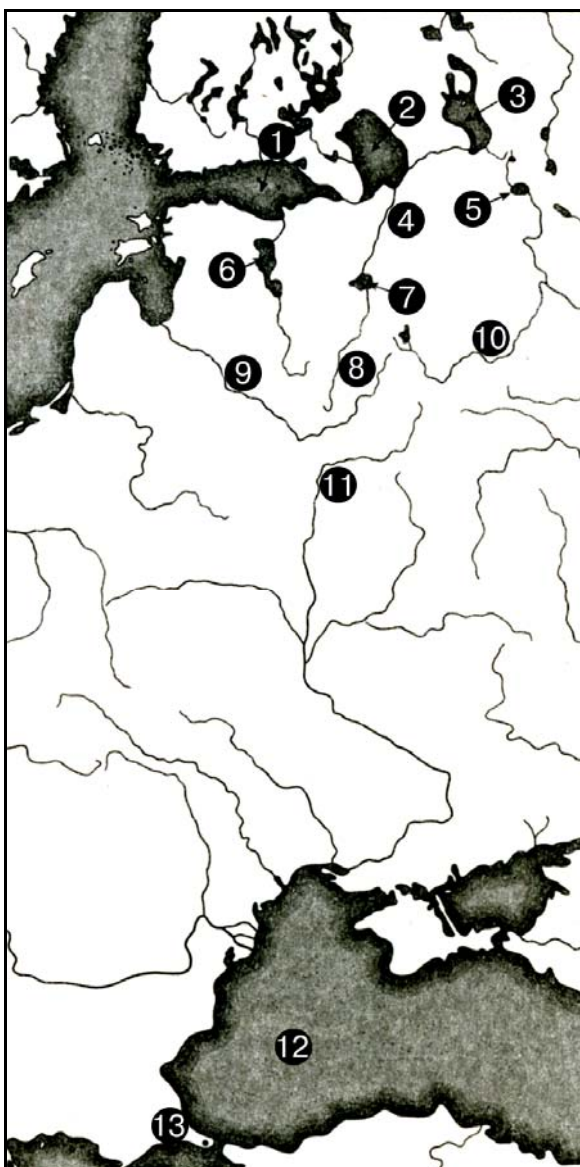
1. Корсунь, Новгород, Ростов, Смоленск, Царьград — _____

2. Велес, Дажьбог, Посейдон, Перун, Лада — _____

3. Икона, амулет, лампада, риза, кадило — _____

4. Вятичи, древляне, кривичи, поляне, болгары — _____

4. Изучите карту. Нарисуйте линию пути «из варяг в греки». Впишите в таблицу географические объекты, через которые он проходил. (За каждый правильный ответ — 1 балл, максимальный балл — 9.)



№ на карте	Название географического объекта
1.	
2.	
3.	
4.	
5.	
6.	
7.	
8.	
9.	
10.	
11.	
12.	
13.	
14.	

Константинополь, Ладожское озеро, озеро Ильмень, река Волхов, река Днепр, река Западная Двина, река Ловать, Финский залив, Черное море.

5. Заполните таблицу. Впишите названия праздников, соответствующих языческим праздникам восточных славян. (По 2 балла за правильный ответ, максимальный балл – 8.)

Явления природы	Славянские праздники	Христианские праздники
1. Зимний солнцеворот	Рождение нового громовника, «добывание живого огня»	
2. Приход весны	Победа громовника (Перуна, Сварога) над зимой (мореной)	
3. Распускаются деревья, зеленеет трава	Праздник русалок, которые весной живут в реках, а с наступлением тепла переселяются на деревья	
4. Летний солнцеворот	Проводы солнца на зиму	

1. Масленица.
2. Праздник Ивана Купалы.
3. Праздник Святой Троицы.
4. Рождество.

6. Определите, о каких царях рассказывает *И.М. Катырев-Ростовский* в своей работе «*Написание вкратце о царех Московских*». (По 2 балла за правильный ответ, максимальный балл — 8.)

А. ...Царь же... благолепием цветуще и образом своим множество людей превзошед, возрасту посредство имея; муж зело чюден в разсуждении ума доволен и сладкоречив велми, благоверен и нищелюбив и строителен зело, о державе своей многое попечение имея и многое дивное о себе творяще. Едино же имея неисправление и от Бога отлучение: ко врачем сердечное прилежание и ко властолюбию насытное желание; и на прежебывших ему царей ко убиению имея дерзновение, от сего же и возмездие восприят...

Б. ...Царь... образом нелепым, очи имея серы, нос протягновен и покляп... ростом велик бяше, сухо тело имея, плещи имея высоки, груди широки, мышцы толсты; муж чюдного разсуждения, в науке книжняго почитания доволен и многоречив зело, ко ополчению дерзостен и за свое отечество стоятель. На рабы от Бога данные ему жестосерд велми, на пролитие крови и на убиение дерзостен велми и неумолим; множество народу от мало и до велика при царстве своем погуби, и многие грады своя поплени, и многие святителския чины заточи и смертию немилостивою погуби, и казни многая содеях над рабы своими, жен и дочерей блудом оскверни. Той же царь... многая и благая сотвори, воинство велми любляще и требующая ими от сокровищ свое неоскудно подаваше...

В. Царевич... отроча зело чюдно, благолепием цветуще, яко цвет дивный на челе, от Бога преукрашен, и яко крин в поле цветущи; очи имея велики черны, лице же ему бело, млечною белостию блистаяся, возрастом среду имея, телом изобилен. Научен же бе от отца своего книжному почитанию, во ответех дивен и сладкоречив велми, пустошное же и гнилое слово никогда же изо уст его исхождаше, о вере же и о поучении книжном со усердием прилежа...

Г. ...Царь же... возрастом мал бе, образ посничества нося, смирением обложен, о душевней вещи попечение имея, на молитве всегда предстоя и нищим, требующая подая; о мирских же ни о чем попечения имея, токмо о душевном спасении. От младенства даже и до конца своего тако пребысть, за сие же спасенное дело бог царство его миром огради, и враги его умири, и время благодатишно подаде...

1. Иван IV Грозный.
2. Федор Иванович.
3. Борис Годунов.
4. Федор Борисович.

1	2	3	4

7. Дайте определения понятиям. (По 2 балла за правильный ответ, максимальный балл — 6.)

1. Баскак — _____

2. Посадник — _____


3. Тысяцкий — _____

8. Установите последовательность некоторых событий Великой Отечественной войны. (За каждую правильную связку — 1 балл, за все правильные ответы — 8 баллов.)

- | | |
|--------------------------------|------------------------------|
| 1. Оборона Брестской крепости. | 5. Смоленское сражение |
| 2. Оборона Киева | 6. Сражение на Курской дуге. |
| 3. Оборона Москвы. | 7. Сталинградская битва. |
| 4. Освобождение Белоруссии. | 8. Форсирование Днепра. |

_____ → _____ → _____ → _____ → _____ → _____ → _____

9. Подпишите рисунки. Определите последовательность событий освоения космоса: впишите номера рисунков в «цепочку последовательности». (За каждую правильную подпись — 1 балл, за каждую правильную связку — 1 балл, за все правильные ответы — 12 баллов.)



1 _____




2 _____



3 _____



4 _____



5 _____



6 _____

_____ → _____ → _____ → _____ → _____ → _____

10. Краеведение. Соотнесите название монастырей Московской области с местом их нахождения. Для этого соедините в ответе соответствующие цифру и букву. Ответ оформите в виде таблицы (За каждый правильный ответ — 1 балл, максимальный балл — 5.)

	Монастыри		Место нахождения
1.	Богоявленский Старо-Голутвинский	А.	г. Волоколамск
2.	Борисоглебский	Б.	г. Дмитров
3.	Иосифо-Волоцкий	В.	г. Звенигород
4.	Новоиерусалимский	Г.	г. Истра
5.	Саввино-Сторожевский	Д.	г. Коломна

1	2	3	4	5

II Тур — Историческое эссе — 30 минут (максимальная оценка — 20)

Перед Вами высказывания историков и современников о событиях и деятелях отечественной истории. Выберите из них одно, которое станет темой Вашего сочинения-эссе. Ваша задача – сформулировать собственное отношение к данному утверждению и обосновать его аргументами, представляющимися Вам наиболее существенными. При выборе темы исходите из того, что Вы:

1. Ясно понимаете смысл высказывания (не обязательно полностью или даже частично быть согласным с автором, но необходимо понимать, что именно он утверждает).

2. Можете выразить свое отношение к высказыванию (аргументировано согласиться с автором либо полностью или частично опровергнуть его высказывание).
3. Располагаете конкретными знаниями (факты, статистические данные, примеры) по данной теме.
4. Владаете терминами, необходимыми для грамотного изложения своей точки зрения.

Имейте в виду, что Жюри, оценивая Вашу работу, будет руководствоваться следующими критериями:

1. Обоснованность выбора темы (объяснение выбора темы и задач, которые ставит перед собой в своей работе участник).
2. Творческий характер восприятия темы, ее осмысления.
3. Грамотность использования исторических фактов и терминов.
4. Четкость и доказательность основных положений работы.
5. Знание различных точек зрения по избранному вопросу.

1. «Что умеете хорошего, то не забывайте, а чего не умеете, тому учитесь...» (*Владимир Мономах*)

2. «Коли нас не будет, то все ваше будет». (*Рязанский князь Юрий Игоревич*)

3. «...два убо Рима падоша, а третий стоит, а четвертому не быти». (*Игумен псковского монастыря Филофей*)

4. «Новгород со своими пятью концами был политическим средоточием обширной территории, к нему тянувшейся». (*В.О. Ключевский*)

5. «Москва спасла Россию, задушив всё, что было свободного в русской жизни.» (*А.И Герцен*)

6. «Иоанн III принадлежит к числу весьма немногих государей, избираемых провидением решить надолго судьбу народов: он есть герой не только российской, но и всемирной истории.» (*Н.М. Карамзин*)

7. «...Софья ценилась в Москве и сама себя ценила не столько как великая княгиня московская, сколько как царевна византийская». (*В.О. Ключевский*)

8. «Господство бояр рушилось совершенно, уступив место единовластию царскому, чуждому тиранства и прихотей.» (*Н.М. Карамзин. Детство и юность Ивана IV*)

9. «Воюя под Москвой, надо думать о Берлине». (*К.К. Рокоссовский*)

10. «Нужно быть человеком, чтобы выжить в подобных условиях». (*Первый секретарь Британского посольства в г. Куйбышев (СССР) Дж. Ламберт, 5 августа 1942 г.*)

11. «Знаете, каким он парнем был!..» (*Н.Н. Добронравов*)

